



Allemaal vragen



Hoe heten de lijntjes door noten die niet op de notenbalk passen

.....



Hoe heet deze sleutel

.....

Spelen de instrumenten die deze sleutel gebruiken hoog of laag

.....



Welke sleutel is hier gebruikt


.....

Spelen de instrumenten die deze sleutel gebruiken hoog of laag



Dit is de

.....




Hoe geef je aan dat de tonen een oktaaf hoger gespeeld moeten worden.....

En een oktaaf lager.....

stamtonen




Dit zijn de **stamtonen**
Schrijf ze in de lege notenbalk zelf ook
een keer



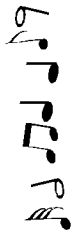
<input type="checkbox"/>	<input type="checkbox"/>	<input type="checkbox"/>	<input type="checkbox"/>	<input type="checkbox"/>	<input type="checkbox"/>	<input type="checkbox"/>	<input type="checkbox"/>
--------------------------	--------------------------	--------------------------	--------------------------	--------------------------	--------------------------	--------------------------	--------------------------

Schrijf de notennamen in de hokjes



Welke sleutel??

Zet een cirkel om de instrumenten die met een G-sleutel spelen



bariton



Fagot




Trompet



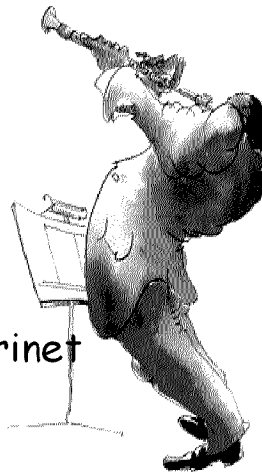
Baritonsaxofoon



Fluit



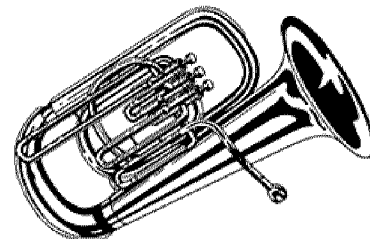
Gitaar



Klarinet



Viool



euphonium

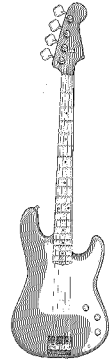
Welke sleutel??

Zet een cirkel om de instrumenten die met een F-sleutel spelen,
Welke instrumenten spelen met beide?
(vul in op de stippellijnen)

.....en.....



trombone




Basgitaar



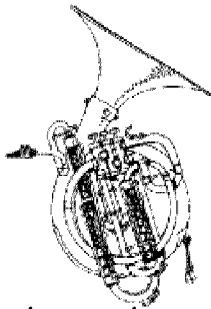
Trompet



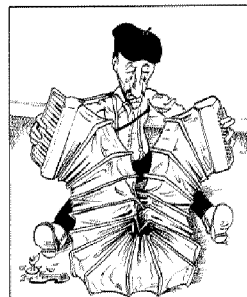
Altsaxofoon



Gitaar



bastuba



Accordeon



Cello




Blokfluit



Piano

Kun je de begrippen vinden ??



Geef aan met letter

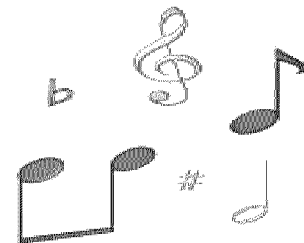

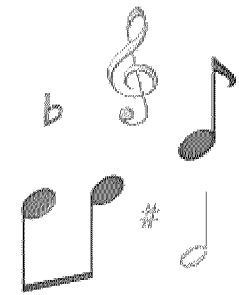
A. het maatteken (de maatsoort)


B. een maatstreep

C. de dunne dubbele maatstreep

D. de dubbele maatstreep



E. een hele maat






Over noten

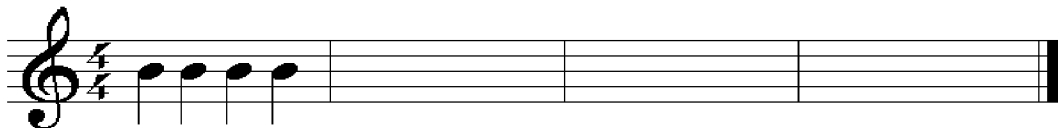
Schrijf op de stippellijn of het halve (h),
kwartnoten (k) of achtste noten (a) zijn




Schrijf G- sleutels en F- sleutels
in de lege notenbalk.



Maak een wijsje van kwartnoten





Maak een wijsje van kwarten en achtsten,
Pas op niet teveel !!!



Van groot naar klein

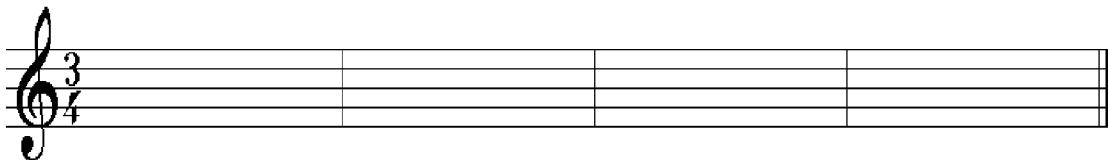
Vul op de stippellijnen in hoe de noten heten,
kies uit achtsten, hele, kwarten, halven.



Maak in deze lege maten een liedje met hele en halve noten



Maak in deze lege maten een liedje met halve en kwartnoten



Let op !! Wat betekent 4 (vier tellen in de maat)
4 de kwartnoot krijgt 1 tel

Wat betekent 3

4

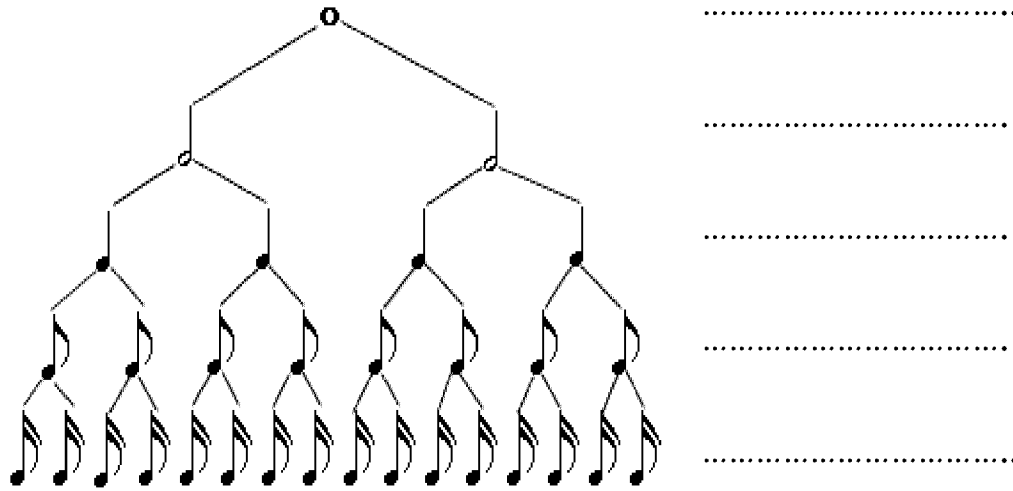




Hier komen de rusten die bij de noten horen, vul de letters in achter de cijfers, streep de letters door die je gebruikt hebt

	A		
	B		
	C		
1....	D		5.... 
2....	E		6.... 
3....	F		7.... 
4....	G		8.... 
	H		


Van groot naar nog kleiner



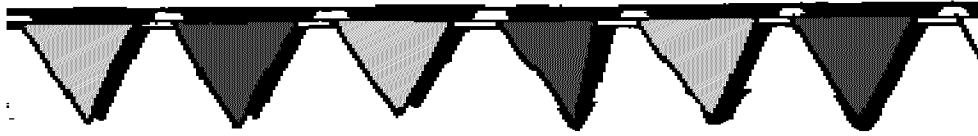
Hoe heten de noten die je hierboven ziet
Schrijf de namen op de stippellijnen ernaast




Maak een liedje met de noten die hierboven staan
Pas op...let op de maatsoort !!!!



Maat en ritme



Zet een cirkel om de noot die 1 tel is



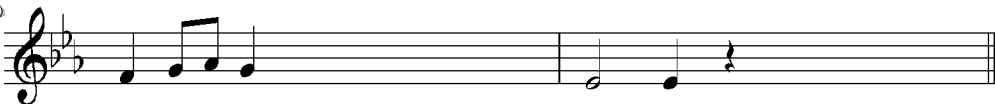
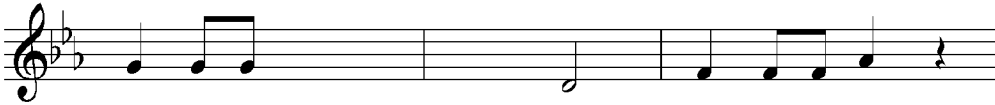

Zet een cirkel om de noot die 2 tellen is



Vul aan


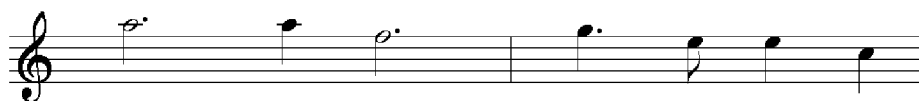


Maak de maten kloppend met achtsten,
kwarten, halve noten



Een raar liedje

Zoek de fouten



Omcirkel de passende maatsoort



2	3
4	4



2	3
4	4



2	3
4	4




2	3
4	4



2	3
4	4



2	3
4	4



2	3
4	4



2	3
4	4



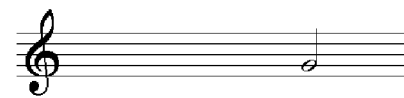
2	3
4	4



2	3
4	4



2	3
4	4




2	3
4	4

Welke noot mist




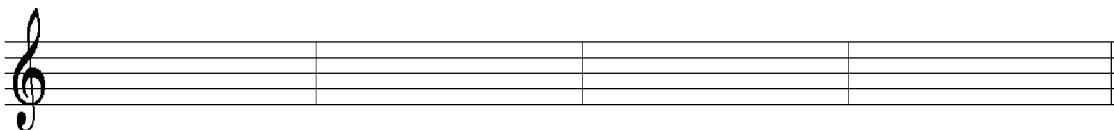



Omcirkel de noot die er nog bij hoort




Twee- en driekwarts maat

Maak een melodie in tweekwarts-en in driekwartsmaat, kies uit de maten die hieronder staan, streep de maat door die je gebruikt hebt..



Tweekwarts- en driekwartsmaat

Maak in je eigen sleutel
een melodie in tweekwarts-
en driekwartsmaat, streep de maat
die je gebruikt hebt door




Four sets of empty musical staves, each consisting of five lines, for writing a melody.

A collection of musical examples and a cartoon illustration. The examples include:

- Two staves of music in 3/4 time, with the first staff starting with a treble clef and the second with a bass clef.
- Two staves of music in 2/4 time, with the first staff starting with a treble clef and the second with a bass clef.
- Two staves of music in 3/4 time, with the first staff starting with a treble clef and the second with a bass clef.
- Two staves of music in 2/4 time, with the first staff starting with a treble clef and the second with a bass clef.
- Two staves of music in 3/4 time, with the first staff starting with a treble clef and the second with a bass clef.
- Two staves of music in 2/4 time, with the first staff starting with a treble clef and the second with a bass clef.

In the center, there is a cartoon illustration of two musical notes with faces and limbs, appearing to be dancing or playing on a staff.


Omcirkel de passende maatsoort



- 2 3 4 6
- 4 4 4 8



- 2 3 4 6
- 4 4 4 8



- 2 3 4 6
- 4 4 4 8



- 2 3 4 6
- 4 4 4 8



- 2 3 4 6
- 4 4 4 8




- 2 3 4 6
- 4 4 4 8




- 2 3 4 6
- 4 4 4 8



- 2 3 4 6
- 4 4 4 8





Bij dit teken moet je

.....

Het teken heet

.....



Omcirkel de noten die langer gemaakt zijn


Weet je nog een manier om een toon langer te maken?

.....

Vul de letter van de maat die erbij hoort in op de stippeltjes achter het cijfer




Toonladders



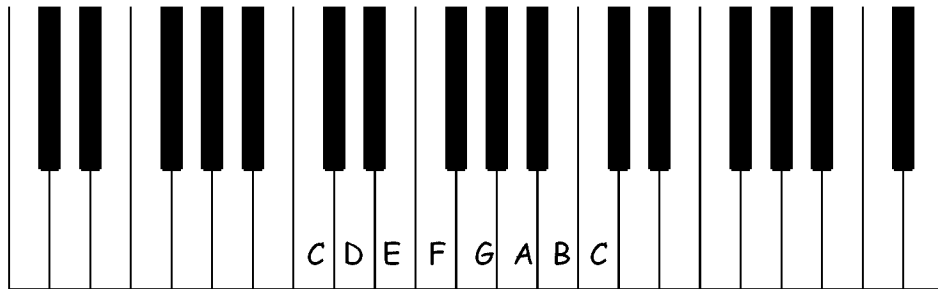
Een toonladder is een soort trap, waarvan de treden niet allemaal even ver uit elkaar zitten.

Teken hierboven een trap (toonladder) met de goede afstanden.


Let op !! heel, heel, half
heel, heel, heel, half






Toonladders



Hier zie je een toonladder op pianotoetsen
Kruis aan waar de halve toonsafstanden zitten



Schrijf nu zelf een toonladder in de notenbalk
Kruis aan waar de halve afstanden zitten





Dit is een toonladder die begint met een C, er staan geen voortekens voor



Schrijf hieronder op de eerste notenbalk een toonladder met 1 mol.



Je moet beginnen met de

(Vul het goede antwoord in op de stippellijnen)


Schrijf op de tweede notenbalk een toonladder met 1 kruis.

Je moet beginnen met de




(vul het goede antwoord in op de stippellijnen)



Zet een kruisje op de plaats waar de halve afstanden zitten, vergeet de sleutel niet !!



Puzzel



Friese

Spaanse

Duitse

Jongens

Agenten

Boeren


Zoenen

Eten

Slapen

Omcirkel het woord dat bij het plaatje hoort
Wat is de oplossing

.....



.....

.....

.....

Welke begintoon heeft de toonladder met
1 mol, 2 mollen, 3 mollen
Noteer het antwoord op de stippellijn

Puzzel



de



Stuur

Zing

Geef

Het

Een

De

Rijken

Armen

Knappen

Omcirkel het woord dat bij het plaatje hoort
Wat is de oplossing

.....




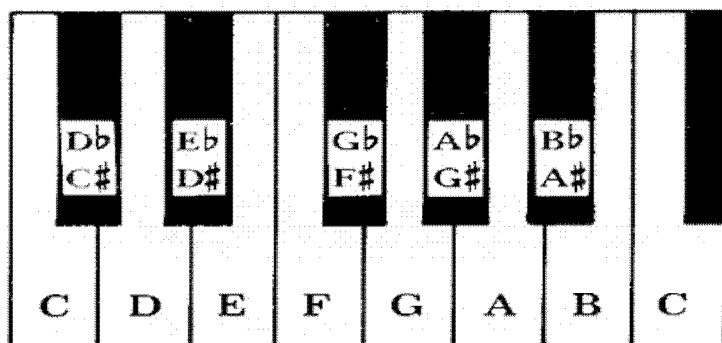
.....

.....



.....


Welke begintoon heeft de toonladder met
1 kruis, 2 kruisen, 3 kruisen
Noteer het antwoord op de stippellijn

Enharmonische tonen

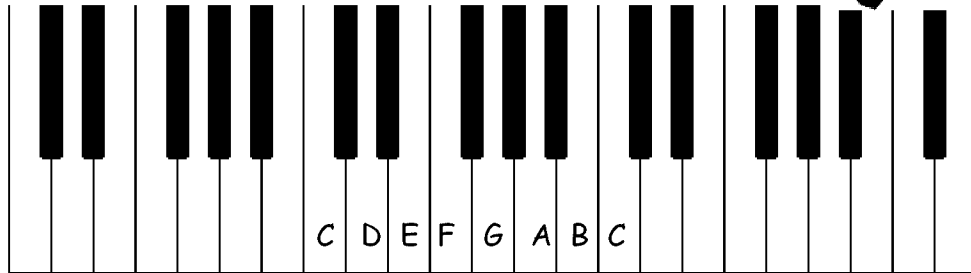


Welke enharmonische tonen zie je nog meer?
Schrijf ze in de lege maten, net als in het voorbeeld


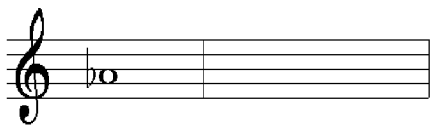
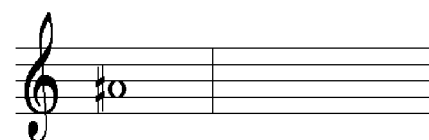
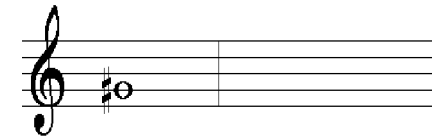
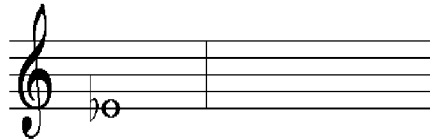
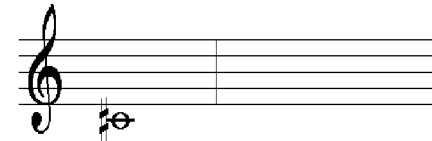

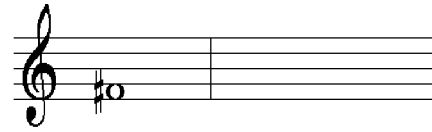
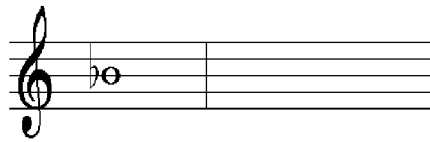




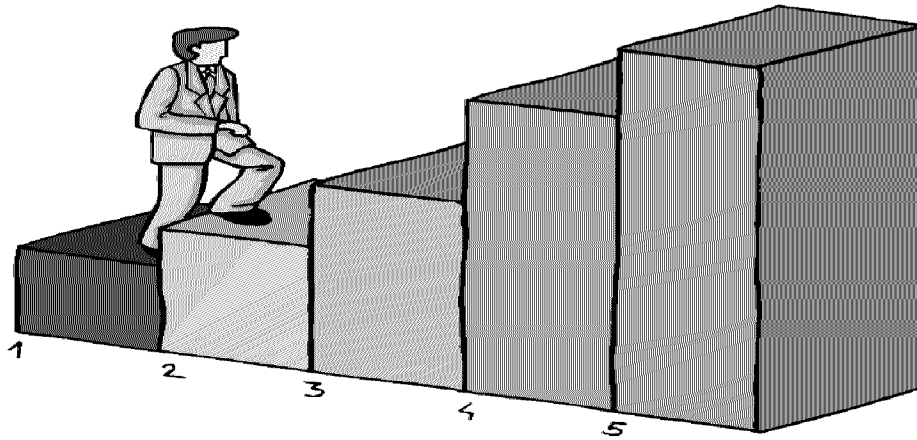
Enharmonische tonen




Schrijf met behulp van de pianotoetsen de enharmonisch gelijke toon in de lege maat




intervallen




Omcirkel de juiste naam




kwart
terts
kwint
secunde
prime




kwart
terts
kwint
secunde
prime



kwart
terts
kwint
secunde
prime

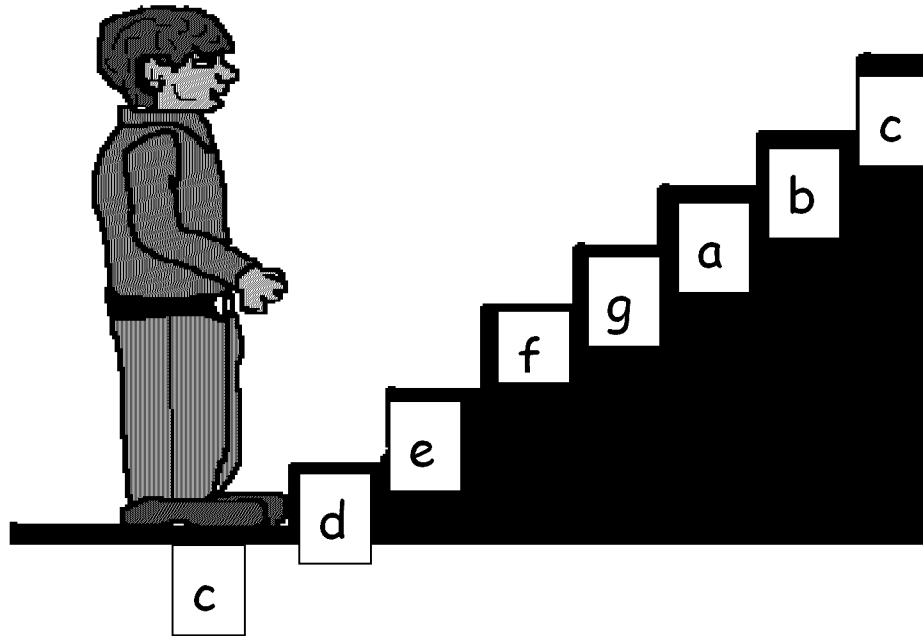


kwart
terts
kwint
secunde
prime




kwart
terts
kwint
secunde
prime


Intervallen invullen




Wat is een kwart op C




Wat is een secunde op C




Wat is een prime op C




Wat is een kwint op C



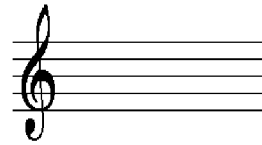
Wat is een terts op C



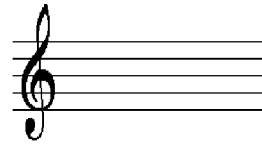
Intervallen invullen



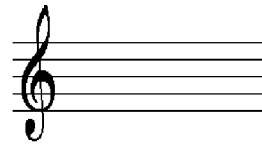
Wat is een kwint op F




Wat is een prime op F



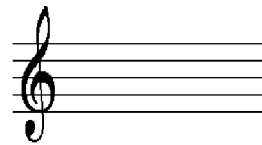
Wat is een kwart op F



Wat is een secunde op F



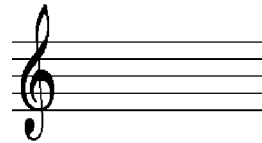
Wat is een terts op F




Intervallen invullen




Wat is een terts op G




Wat is een kwint op G




Wat is een secunde op G





Wat is een prime op G



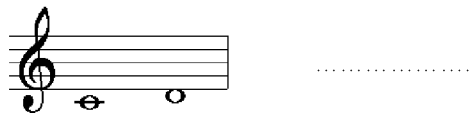
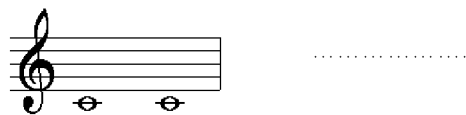
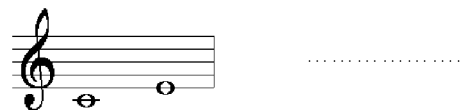
Wat is een kwart op G



intervallen



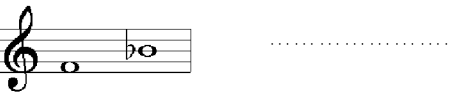
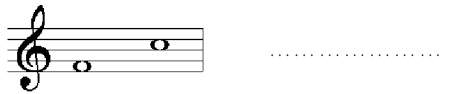
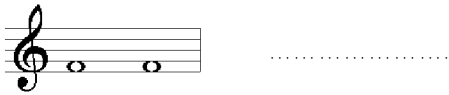
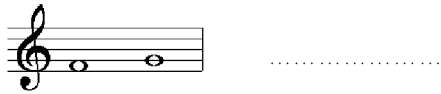
Reken uit welk interval er staat



intervallen



Reken uit welk interval er staat



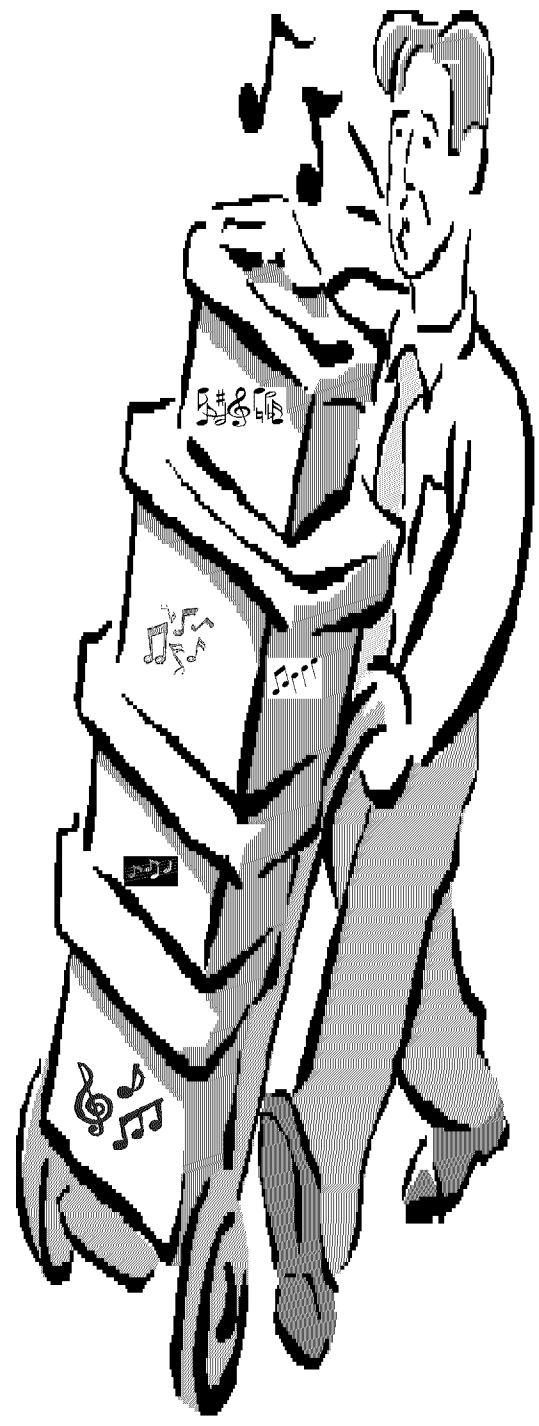
intervallen



Reken uit welk interval er staat

Five musical staves, each with a treble clef and two notes, followed by a dotted line for the answer:

- Staff 1: G4, A4
- Staff 2: G4, B4
- Staff 3: G4, C5
- Staff 4: G4, D5
- Staff 5: G4, E5



Allemaal vragen



4
4


Dit betekent

.....
.....



Deze noten mag je

.....



Hier speel je de noten

.....



En hier speel je

.....



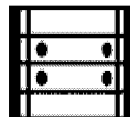

Aan deze letters onder de noten kun je zien

.....



Als dit teken onder de noten staat moet je


.....



Bij dit teken moet je

.....

Omcirkel het woord dat erbij hoort



Zeer langzame beweging

Andante
Largo
Presto
Allegro
Moderato




Matig langzame beweging

Andante
Largo
Presto
Allegro
Moderato



Matig snelle beweging

Andante
Largo
Presto
Allegro
Moderato



Snelle beweging

Andante
Largo
Presto
Allegro
Moderato



Zeer snelle beweging

Andante
Largo
Presto
Allegro
Moderato